

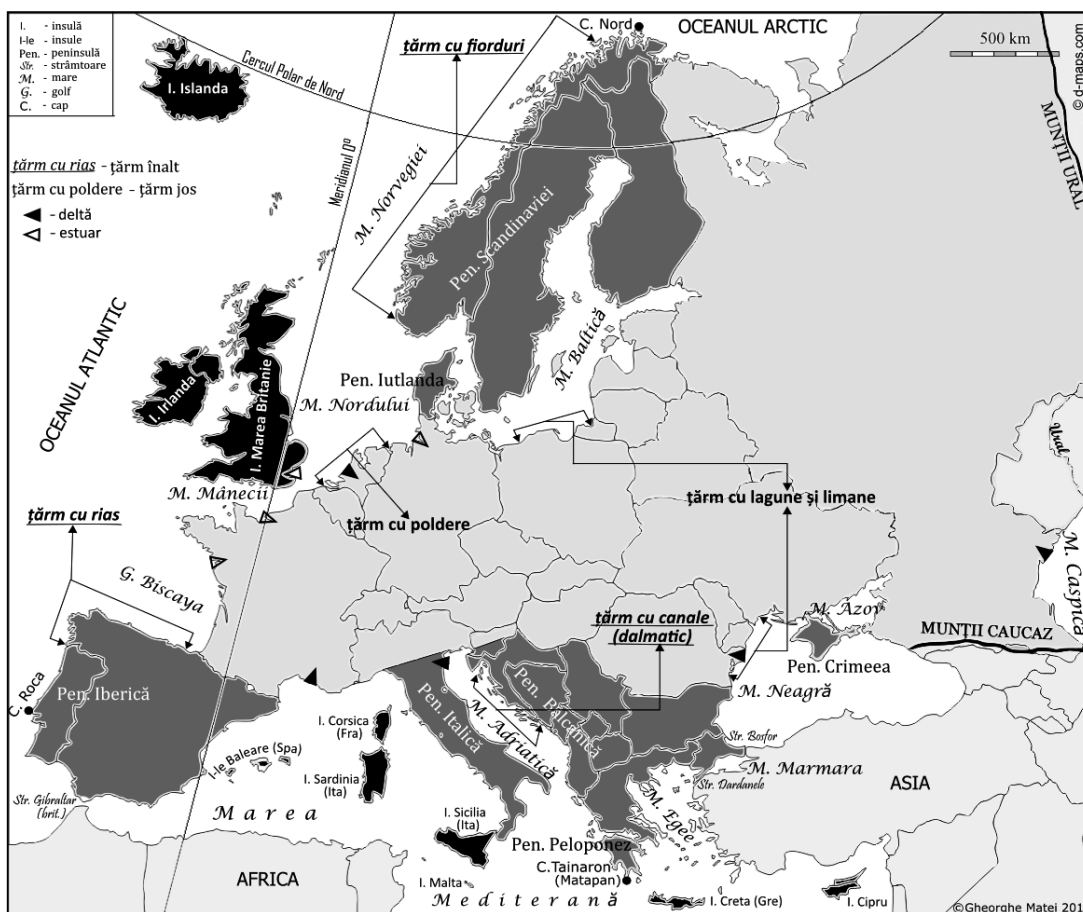
**FIȘA DE LUCRU NR. 1: Așezarea geografică, limitele și țărmurile Europei**

Studiază cu atenție harta, citește textul și răspunde cerințelor de mai jos:

Europa este o mare peninsulă a Asiei, împreună cu care formează un imens continent, numit Eurasia. Este situată în întregime în **emisfera nordică**, fiind străbătută de Cercul Polar de Nord și de Meridianul 0°.

**Limitele** sunt marcate de capurile: Nord / Nordkinn (în nord), Tainaron / Matapan (în sud), Roca (în vest) și de Munții Ural (în est), munți ce despart Europa de Asia.

Țărmurile sunt crestate, având



multe **articulații**: insule, peninsule, golfuri, strâmtoari, capuri, la care se adaugă multe **mări**. Se remarcă insula Islanda, cea mai mare insulă vulcanică din Oceanul Atlantic, Marea Nordului, cu resurse foarte mari de petrol, exploatate, îndeosebi, de Norvegia și Regatul Unit, Marea Mânecii, pe sub care trece Channel Tunnel / Tunelul Canalului / Eurotunel, Peninsula Crimeea, anexată abuziv în 2014 de către Federația Rusă, strâmtoarea Gibraltar, care separă Europa de Africa.

Europa prezintă pe trei laturi un **relief litoral** variat, cu **țărmuri înalte**, la contactul dintre mare / ocean și munte, și **țărmuri joase**, la contactul dintre mare / ocean și câmpie. Țărmurile înalte cuprind următoarele tipuri: cu fiorduri (specific țărmului Norvegiei – „Țara fiordurilor”), dalmatic (specific țărmului Croației / Dalmația), cu rias (specific țărmului nord-vestic al Spaniei). Țărmurile joase includ următoarele tipuri: cu limanuri și lagune (pe țărmul Mării Negre, al Mării Baltice), cu estuar (pe țărmul Oceanului Atlantic: fluviile Tamisa, Sena, Elba etc.), cu deltă (pe țărmul Mării Mediterane – Ron, al Mării Negre – Dunărea, al Mării Caspice – Volga etc.). Astfel, fluviile care se varsă în ocean, cu maree mari, formează un estuar (sub formă de pânle), iar cele care se varsă în mări închise, cu maree mici, au la vărsare câte o deltă (sub formă de evantai). Există și un tip de țărm creat de om (antropic), cu poldere (Țările de Jos – „Țara polderelor”).

**I. Precizează:**

1. cele două linii imaginare care trec prin Europa: una latitudinală numită ..... și alta longitudinală numită .....
2. punctele extreme ale Europei: în nord, Capul ....., în sud, Capul ....., în vest, Capul ....., iar în est, Munții .....

**II. Completează spațiile libere cu răspunsul corect:**

1. Țărmul dalmatic este specific statului numit .....

2. „Țara fiordurilor” este statul numit .....
3. Țărmul cu rias este specific statului numit .....
4. „Țara polderelor” este statul numit .....

**III.** Încercuiește litera corespunzătoare răspunsului corect:




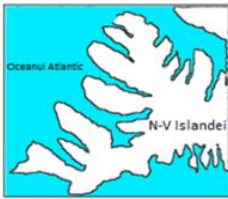




1. Țărmul cu limanuri și lagune se întâlnește în Marea:

- a. Adriatică.                      b. Neagră.                      c. Norvegiei.                      d. Tireniană.

2. Eurotunelul leagă, pe sub Marea Mânecii, orașul-port Dover (Regatul Unit) de orașul-port Calais situat în:

- a. Belgia.                      b. Danemarca.                      c. Franța.                      d. Țările de Jos.

**IV.** Corelează tipurile de țărmuri din coloana **B** cu imaginile din coloana **A** și cu fragmentul de hartă în care este localizat tipul de țărm respectiv (ex. **V - 5 - e**). Pentru fiecare tip de țărm din coloana **B**, completează două caracteristici în coloana **D**.

	<b>A</b>	<b>B</b>	<b>C</b>	<b>D</b>
<b>I</b>		1 țărm cu rias	<b>a</b> 	..... .....
<b>II</b>		2 țărm cu limanuri	<b>b</b> 	..... .....
<b>III</b>		3 țărm cu fiorduri	<b>c</b> 	..... .....
<b>IV</b>		4 țărm dalmatic	<b>d</b> 	..... .....

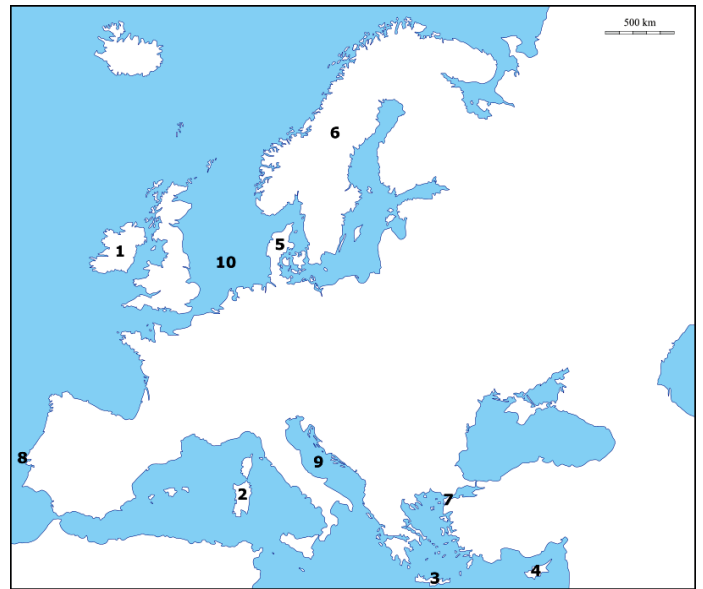
**V.** Se dau denumirile: Marea Britanie, Peloponez, Corsica, Baltică, Islanda, Crimeea, Gibraltar, Iberică, Italică, Tainaron / Matapan, Sicilia, Balcanică, Biscaya, Malta, Bosfor. Selectează:

a) 5 denumiri de peninsule: .....

b) 5 denumiri de insule: .....

**VI.** Identifică articulațiile țărmurilor și mările marcate, pe harta alăturată, cu cifre și numere de la **1** la **10**, și scrie-le în tabelul de mai jos:

1 Insula .....	6 Peninsula .....
2 Insula .....	7 Strâmtoarea .....
3 Insula .....	8 Capul .....
4 Insula .....	9 Marea .....
5 Peninsula .....	10 Marea .....



**VII. a.** Prezintă o cauză care determină formarea estuarelor pe țărmul european al Oceanului Atlantic.  
**b.** Precizează un mod de utilizare economică a estuarelor.

**a.** .....

**b.** .....

**VIII.** Precizează numele a două fluvii care se varsă prin deltă și a două fluvii care se varsă prin estuar.

.....; .....

**IX.** Scrie / înscrie pe harta de mai sus, folosind atlasul geografic, literele corespunzătoare următoarelor articulații ale țărmului: **a** - capul Tainaron, **b** - insula Sicilia, **c** - strâmtoarea Gibraltar, **d** - peninsula Crimeea, **e** - istmul Corint, **f** - golful Biscaya, **g** - arhipelagul Baleare, **h** - peninsula Iberică, **i** - insula Islanda, **j** - peninsula Balcanică, **k** - insula Marea Britanie.