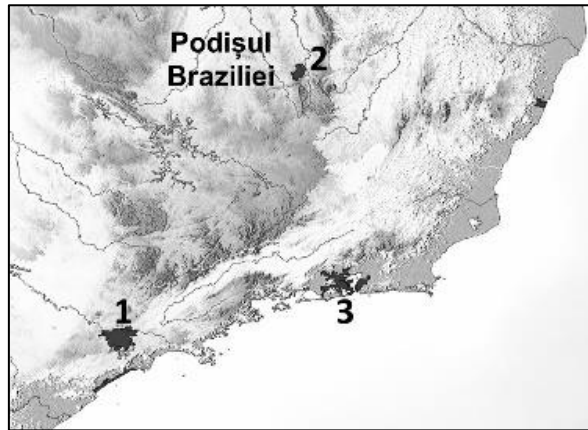


FIȘĂ DE LUCRU - Așezările umane

Exercițiul 1:

În imaginea de mai jos este reprezentat un megalopolis sud-american. Precizează:

- a. numele acestuia; **0,2 p**
- b. poziția geografică; **0,2 p**
- c. două premise ale formării acestuia; **0,4 p**
- d. numele celor trei metropole ce intră în componența sa, numerotate cu cifre de la 1 la 3. **0,6 p**

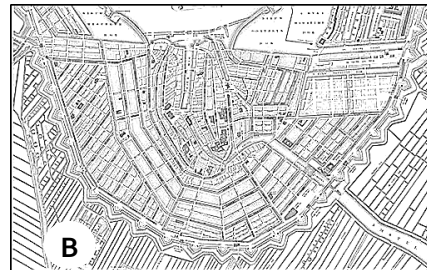


- a.
- b.
- c.
.....
- d. 1....., 2....., 3

Exercițiul 2:

În schițele de mai jos sunt reprezentate două tipuri de planuri morfostructurale urbane:

- a. Identificați tipurile morfostructurale în se încadrează. **0,4 p**
- b. Precizați care este dispunerea străzilor în interiorul fiecărui oraș. **0,4 p**
- c. Comparați cele două tipuri de morfostructură și precizați câte un dezavantaj al modului de organizare a rețelei stradale. **0,4 p**

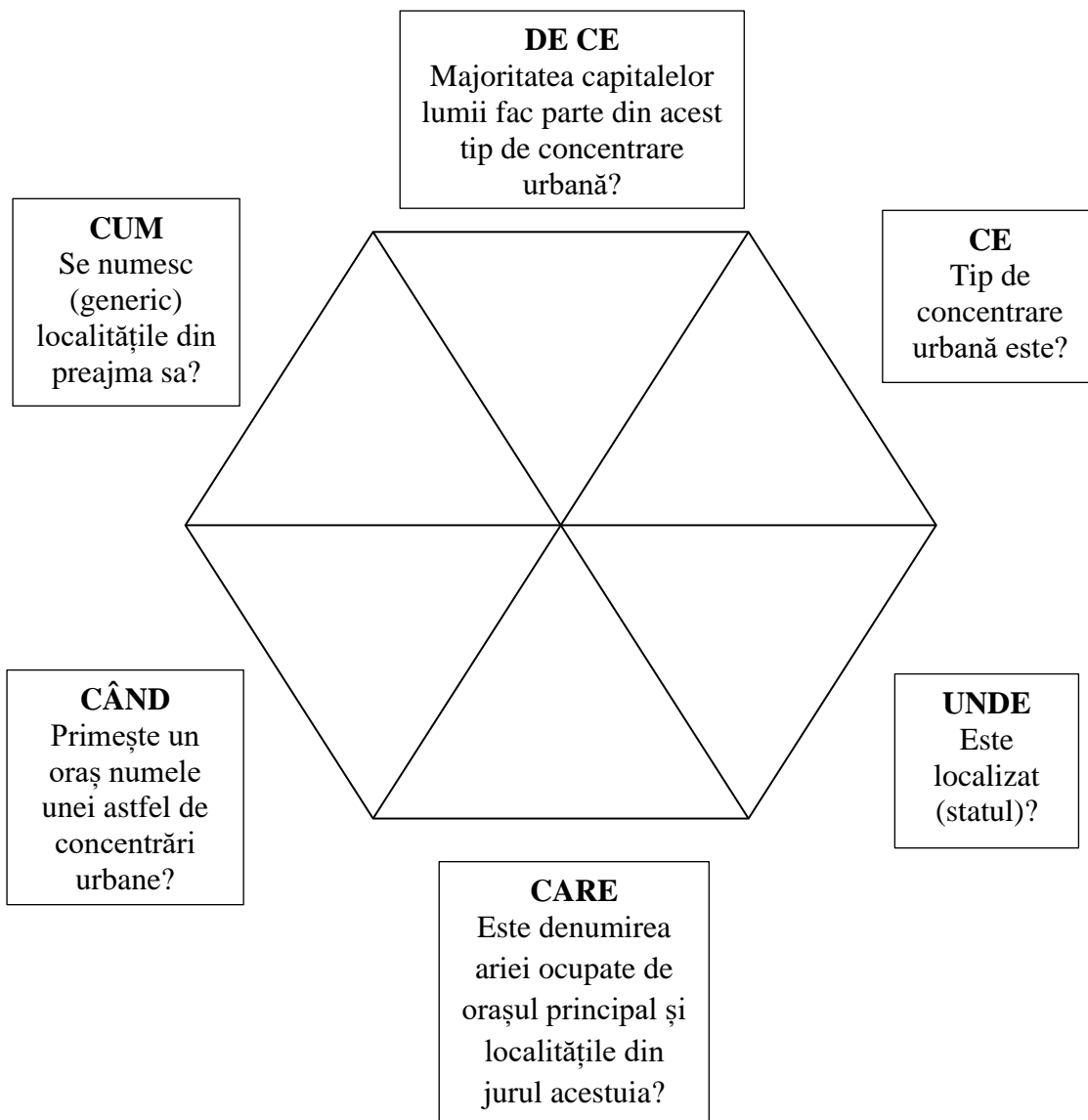
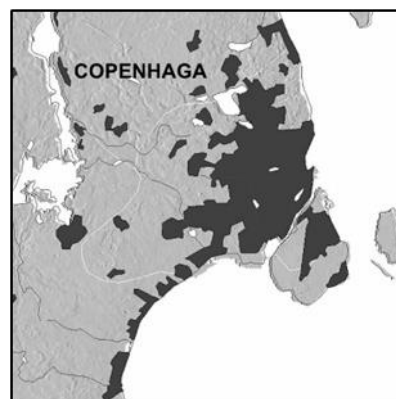


- a. A B.....
- b. Rețea stradală A
Rețea stradală B
- c. Dezavantaj A.....
Dezavantaj B.....

Exercițiul 3:

Urmăriți schița alăturată care reprezintă o concentrare urbană din Europa.

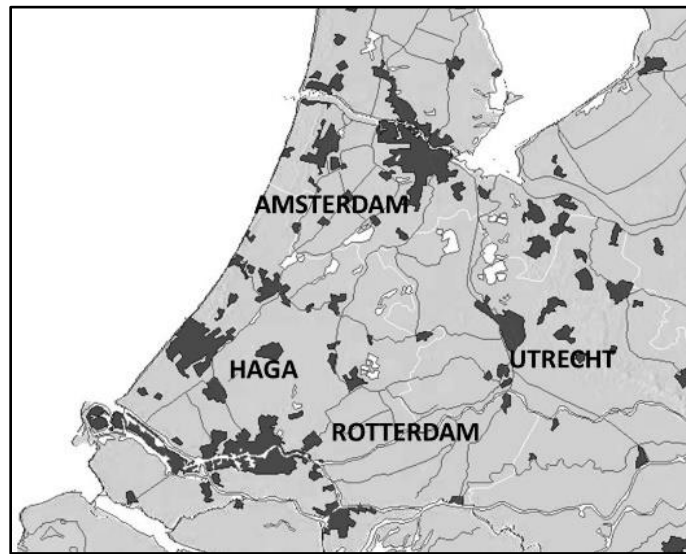
Cu privire la aceasta, răspundeți la următoarele întrebări, completând hexagonul.



2,4 puncte (6x0,4p)

Exercițiul 4:

Având în vedere schița de mai jos precizează conform cerințelor:



• **DESCRIE** ! tipul de concentrare urbană, numele și statul unde este localizată.

0,3 p

.....

• **COMPARĂ** ! cu megalopolisul, identificând o asemănare și o deosebire.

0,6 p

.....

.....

• **ASOCIAZĂ** ! cu o cauză a apariției acestei concentrări urbane.

0,3 p

.....

• **ANALIZEAZĂ** ! precizând o caracteristică ale acestui tip de concentrare, cu privire la dotarea tehnico-edilitară.

0,3 p

.....

• **ARGUMENTEAZĂ** ! specificând un aspect pozitiv și unul negativ al prezenței acestei concentrări urbane.

0,6 p

.....

-
- **APLICĂ !** ce știi despre această concentrare urbană pentru a explica de ce Depresiunea Petroșani nu face parte din aceeași categorie.

0,3 p

.....

.....

Exercițiul 5:

Completază matricea cu cuvintele potrivite din setul aflat în subsolul paginii.

MATRICE – tipuri de locuințe rurale

_____	MATERIAL DE CONSTRUC- ȚIE	_____	_____
_____	piloni	_____	_____
iglu	_____	_____	Finlanda
_____	lut și paie	_____	_____
iurta	_____	stepă	_____
_____	_____	_____	Tunisia

SET DE CUVINTE

mediul de viață	troglodită	tukul	musonic
savană	Malaysia	polar	palustru
blocuri de zăpadă	Kazahstan	tip de locuință	deșertic
statul/țara	stâncă	Etiopia	piele de animal

1,6 puncte (16x0,1p)

Notă: La punctajul final se acordă 1 punct din oficiu.

FIȘĂ DE LUCRU - Așezările umane

EXEMPLE DE REZOLVARE

Exercițiul 1:

- a:** Megalopolisul Brazilian
- b:** litoralul atlantic al Braziliei
- c:** porturile prospere cu legături economice, existența unor resurse de subsol (petrol, gaze, aur, fosfați)
- d:** **1** – Sao Paolo, **2** – Belo Horizonte, **3** – Rio de Janeiro

Exercițiul 2:

- a:** **A** – liniară, **B**- semicirculară
- b:** **A** – o stradă principală care este întretăiată rectangular de străzi secundare mai scurte,
B – străzi cu aspect radiar, converg spre centrul orașului ce întretaie străzi dispuse concentric, în semicerc
- c:** Dezavantaj **A** – distanțe mari de parcurs/împărțirea orașului în două de artera principală; Dezavantaj **B**- aglomerarea străzilor radiare/limitarea circulației pe străzile dispuse concentric datorită vizibilității reduse la intersecția acestora cu cele dispuse radiar

Exercițiul 3:

- CE:** metropolă;
- DE CE:** datorită dezvoltării economice, culturale, urbanistice;
- CUM:** orașe - satelit;
- CÂND:** populația depășește un milion de locuitori;
- CARE:** arie metropolitană;
- UNDE:** Danemarca.

Exercițiul 4:

- DESCRIE:** conurbația Randstadt - Holland, Olanda;
- COMPARĂ:** asemănare – număr mare de locuitori, deosebire – metropola se compune dintr-un oraș cu rol de capitală (regională sau națională) împreună cu orașele satelit, pe când conurbația este un ansamblu de orașe care se dezvoltă independent, apropiate între ele;

ASOCIAZĂ: a apărut pe baza accentuării relațiilor dintre două sau mai multe orașe apropiate spațial;

ANALIZEAZĂ: orașele din componența conurbației au sisteme comune, cum sunt – alimentarea cu apă, cu energie, amenajarea și protecția mediului;

ARGUMENTEAZĂ: aspect pozitiv – dezvoltare economică a regiunii, aspect negativ – poluarea mediului;

APLICĂ: în cadrul Depresiunii Petroșani, orașele nu au sisteme comune.

Exercițiul 5:

tip de locuință	MATERIAL DE CONSTRUCȚI E	mediul de viață	statul/țara
palustru	piloni	musonic	Malaysia
iglu	blocuri de zăpadă	polar	Finlanda
tukul	lut și paie	savană	Etiopia
iurta	piele de animal	stepă	Kazahstan
trogloidă	stâncă	deșertic	Tunisia